

# Material Teórico - Módulo de Função Logarítmica

## Função logarítmica e propriedades - Parte 2

Primeiro Ano - Ensino Médio

**Autor: Prof. Angelo Papa Neto**  
**Revisor: Prof. Antonio Caminha M. Neto**



Nesta segunda parte, estudaremos as funções associadas à noção de logaritmo e veremos que essas funções são inversas de funções exponenciais. Também estudaremos os gráficos dessas funções.

## 1 Funções logarítmicas como inversas de funções exponenciais

Vamos denotar por  $\mathbb{R}_+^*$  o conjunto dos números reais positivos. Fixado um número real positivo  $a > 0$ , diferente de 1, função  $L_a : \mathbb{R}_+^* \rightarrow \mathbb{R}$ , dada por  $L_a(x) = \log_a x$ , é chamada *função logarítmica de base a*.

Se  $a > 1$ , a função  $L_a$  é crescente. De fato, suponha que  $x_1$  e  $x_2$  sejam números reais positivos, e sejam  $y_1 = \log_a x_1$  e  $y_2 = \log_a x_2$ . Suponha, ainda, que  $x_1 < x_2$ . A definição de logaritmo nos diz que  $x_1 = a^{y_1}$  e  $x_2 = a^{y_2}$ . Como  $a > 1$ , a função exponencial de base  $a$  é crescente, logo, se ocorresse  $y_1 \geq y_2$ , teríamos  $a^{y_1} \geq a^{y_2}$ , o que não é o caso. Assim, deve ser  $y_1 < y_2$ , ou seja,  $\log_a x_1 < \log_a x_2$ .

Se  $0 < a < 1$ , então a função  $L_a$  é decrescente. De fato, se  $b = a^{-1}$ , então  $b > 1$ , de sorte que a função  $L_b$ , dada por  $L_b(x) = \log_b x$ , é crescente, pelo que vimos no parágrafo anterior. Por outro lado, aplicando a fórmula do Exemplo 4, da Parte 1, com  $k = -1$ , obtemos

$$L_a(x) = \log_a x = \log_{b^{-1}} x = (-1) \log_b x = -L_b(x).$$

Assim, como  $L_b$  é crescente, a função  $L_a$  é decrescente.

Mostremos, agora, o seguinte fato importante.

A função exponencial  $E_a : \mathbb{R} \rightarrow \mathbb{R}_+^*$  é bijetiva e a função  $L_a$  é sua inversa.

Na aula sobre funções exponenciais, vimos que a função exponencial  $E_a$  é injetiva e que sua imagem é o conjunto  $\mathbb{R}_+^*$  dos números reais positivos. Isso implica que  $E_a : \mathbb{R} \rightarrow \mathbb{R}_+^*$  é bijetiva. Evidentemente, se mostrarmos que  $E_a$  tem uma inversa, isso será outra forma de mostrar que essa função é bijetiva. Fazemos isto a seguir.

Pela definição de logaritmo (veja a Propriedade (3), na Parte 1 desta aula), temos

$$E_a(L_a(x)) = E_a(\log_a x) = a^{\log_a x} = x.$$

Por outro lado, segue das propriedades (2) e (6) que

$$L_a(E_a(x)) = \log_a(a^x) = x \log_a a = x.$$

Isso mostra que as composições  $E_a \circ L_a$  e  $L_a \circ E_a$  são as funções identidade de  $\mathbb{R}_+^*$  e  $\mathbb{R}$ , respectivamente. Assim,  $E_a$  e  $L_a$  são inversas uma da outra.

**Observação 1.** Evidentemente, o fato de  $E_a$  e  $L_a$  serem inversas uma da outra também implica que  $L_a$  é uma função bijetiva. Disso segue, em particular, que as tábuas de logaritmos podiam ser usadas sem ambiguidade, pois a injetividade da função logarítmica garante que, uma vez conhecido o logaritmo de um número real positivo, podemos determinar univocamente esse número.

Outra aplicação da bijetividade da função logarítmica é à resolução de certas equações ou inequações exponenciais.

**Exemplo 2.** Encontre as possíveis soluções da equação

$$3^x - 3^{-x} = 1.$$

**Solução.** Chamando  $y = 3^x$ , temos que  $3^{-x} = \frac{1}{y}$ , logo, a equação dada corresponde a  $y - \frac{1}{y} = 1$ , ou seja,  $y^2 - y - 1 = 0$ . Resolvendo essa equação quadrática, obtemos  $y = \frac{1 \pm \sqrt{5}}{2}$ . Como  $1 < \sqrt{5}$ , a solução  $\frac{1 - \sqrt{5}}{2}$  é negativa, logo, não pode ser igual a uma potência de 3. Assim, a única solução conveniente é  $y = \frac{1 + \sqrt{5}}{2}$ , que fornece  $3^x = \frac{1 + \sqrt{5}}{2}$ , ou seja,  $x = \log_3 \left( \frac{1 + \sqrt{5}}{2} \right)$ .  $\square$

**Exemplo 3.** Resolva a inequação

$$2^{3x} - 11 \cdot 4^x + 3 \cdot 2^{x+3} > 0.$$

**Solução.** A inequação dada pode ser reescrita como

$$(2^x)^3 - 11 \cdot (2^x)^2 + 24 \cdot 2^x > 0.$$

Fazendo  $y = 2^x$ , obtemos

$$y^3 - 11y^2 + 24y > 0,$$

que é equivalente a

$$y(y - 3)(y - 8) > 0.$$

Vamos analisar o sinal da expressão  $y(y - 3)(y - 8)$ :

1. Se  $y < 0$ , então os três fatores,  $y$ ,  $y - 3$  e  $y - 8$ , são negativos, logo, o produto  $y(y - 3)(y - 8)$  também é negativo e este caso não nos interessa.
2. Se  $0 < y < 3$ , então  $y > 0$ ,  $y - 3 < 0$  e  $y - 8 < 0$ . Neste caso, o produto  $y(y - 3)(y - 8)$  é positivo.
3. Se  $3 < y < 8$ , então  $y > 0$ ,  $y - 3 > 0$  e  $y - 8 < 0$ . Neste caso,  $y(y - 3)(y - 8) < 0$  e não há solução.
4. Se  $y > 8$ , então os três fatores são positivos, logo, o produto também o é.

Assim,  $y(y - 3)(y - 8) > 0$  se, e somente se,  $0 < y < 3$  ou  $y > 8$ . Como  $y = 2^x$ , os valores de  $x$  que nos interessam são aqueles tais que  $0 < 2^x < 3$  ou  $2^x > 8$ . A desigualdade  $2^x > 0$  é sempre válida. De  $2^x < 3$  segue que  $x < \log_2 3$ . De  $2^x > 8$  segue que  $x > \log_2 8 = \log_2(2^3) = 3$ . Portanto, o conjunto solução da inequação dada é  $S = \{x \in \mathbb{R} \mid x < \log_2 3 \text{ ou } x > 3\}$ .  $\square$

## 2 Gráfico da função inversa

Considere os conjuntos  $A \subset \mathbb{R}$  e  $B \subset \mathbb{R}$  e a função  $f : A \rightarrow B$ . Suponha que a função  $f$  seja bijetiva, portanto tenha uma inversa  $f^{-1} : B \rightarrow A$ . Nesta seção, responderemos a seguinte pergunta: *dado o gráfico de  $f$ , como obter o gráfico de  $f^{-1}$ ?*

O gráfico da função  $f : A \rightarrow B$  é o subconjunto  $\text{Gr}(f)$  de  $A \times B$  dado por

$$\text{Gr}(f) = \{(x, y) \in A \times B \mid y = f(x)\}.$$

Agora,  $y = f(x)$  é equivalente a  $f^{-1}(y) = x$ . Isso significa que

$$\begin{aligned} (x, y) \in \text{Gr}(f) &\Leftrightarrow y = f(x) \Leftrightarrow \\ &\Leftrightarrow x = f^{-1}(y) \Leftrightarrow (y, x) \in \text{Gr}(f^{-1}). \end{aligned} \quad (1)$$

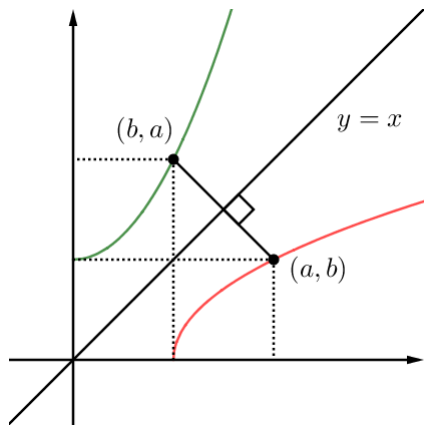


Figura 1: os pontos  $(a, b)$ , pertencente ao gráfico de  $f$ , e  $(b, a)$ , pertencente ao gráfico da inversa  $f^{-1}$ , são simétricos em relação à reta  $y = x$ .

A seguir, estudamos o significado geométrico de (1).

Dizemos que os pontos  $P$  e  $Q$  são **simétricos** em relação à reta  $l$  se essa reta é a mediatriz do segmento de reta  $PQ$ , ou seja, se a reta  $l$  é perpendicular à reta que passa por  $P$  e  $Q$  e intersecta o segmento  $PQ$  em seu ponto médio.

Na Figura 1, o ponto  $M = (\frac{a+b}{2}, \frac{b+a}{2})$  é o ponto médio do segmento cujas extremidades são os pontos  $(a, b)$  e  $(b, a)$ . Como a abscissa e a ordenada do ponto  $M$  são iguais, esse ponto pertence à reta  $y = x$ .

Além disso, a reta que passa por  $(a, b)$  e  $(b, a)$  tem coeficiente angular  $m_1 = \frac{b-a}{a-b} = -1$ , e a reta  $y = x$  tem coeficiente angular  $m_2 = 1$ . Como  $m_1 \cdot m_2 = -1$ , essas duas retas são perpendiculares.

Portanto, a reta  $y = x$  é a mediatriz do segmento de extremidades  $(a, b)$  e  $(b, a)$ , e concluímos o seguinte:

Os pontos  $(a, b)$  e  $(b, a)$  são simétricos em relação à reta  $y = x$ .

A discussão acima nos permite concluir que o gráfico da função inversa  $f^{-1}$  é simétrico ao gráfico de  $f$  em relação à reta  $y = x$ , ou seja,  $\text{Gr}(f^{-1})$  é a imagem de  $\text{Gr}(f)$  pela reflexão em relação à reta  $y = x$ .

## 3 Gráficos de funções logarítmicas

Seja  $a > 1$  um número real dado. Na Figura 2 vemos o gráfico da função exponencial  $E_a(x) = a^x$  em verde e da função logarítmica  $L_a(x) = \log_a x$  em vermelho (de fato, modificando o real  $a > 1$ , modificaremos correspondentemente os gráficos de  $E_a$  e  $L_a$ . Assim, a Figura 2 deve ser vista como uma representação típica de tais gráficos).

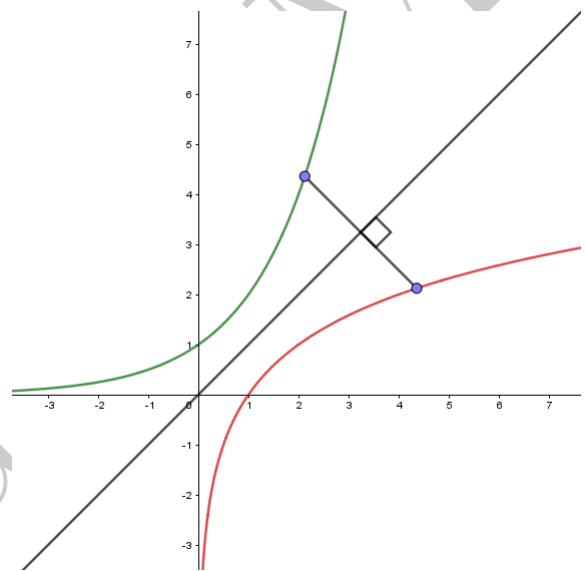


Figura 2: os gráficos da função exponencial  $x \mapsto a^x$  (em verde) e de sua inversa,  $x \mapsto \log_a x$  (em vermelho).

Uma vez que são gráficos de funções inversas, eles são curvas simétricas em relação à reta  $y = x$ , bissetriz dos quadrantes ímpares. Isso significa que, para cada ponto do gráfico da função exponencial, existe um ponto sobre o gráfico da função logarítmica tal que o segmento de reta com extremidades nesses dois pontos é perpendicular à reta  $y = x$ , intersectando tal reta em seu ponto médio.

Em particular, à medida que  $x$  se aproxima de 0 por valores positivos, o gráfico da função logarítmica se aproxima mais e mais do eixo  $y$ ; mais precisamente, dado um número real  $N < 0$ , existe  $x > 0$  suficientemente próximo de zero, tal que  $\log_a x < N$ . Por outro lado, dado  $M > 0$ , existe  $x > 0$ , suficientemente grande tal que  $\log_a x > M$ ; de outra forma, podemos tornar  $\log_a x$  tão grande quanto desejado, bastando tomar um real positivo  $x$  suficientemente grande.

No caso em que  $0 < a < 1$ , os gráficos da função exponencial  $E_a(x) = a^x$  e da função logarítmica  $L_a(x) = \log_a x$

também são simétricos em relação à reta  $y = x$ , uma vez que tais funções continuam sendo inversas uma da outra. Tais gráficos são como os mostrados na Figura 3 (novamente aqui, modificando o real  $0 < a < 1$ , modificaremos correspondentemente os gráficos de  $E_a$  e  $L_a$ . Assim, a Figura 3 também deve ser vista como uma representação típica de tais gráficos).

A diferença entre os gráficos esboçados nas duas figuras pode ser explicada facilmente, a partir da fórmula deduzida no Exemplo 4 da parte 1 desta aula: se  $\alpha > 1$ , então  $0 < \alpha^{-1} < 1$  e

$$L_{\alpha^{-1}}(x) = \log_{\alpha^{-1}} x = -\log_{\alpha} x = -L_{\alpha}(x)$$

ou, resumidamente,

$$L_{\alpha^{-1}} = -L_{\alpha}.$$

Assim, os gráficos das funções  $L_{\alpha}$  e  $L_{\alpha^{-1}}$  são simétricos em relação ao eixo  $y$ .

A análise que fizemos da relação entre os gráficos da função exponencial e logarítmica, no caso  $a > 1$ , pode ser repetida no caso em que  $0 < a < 1$ . Nesse caso, as conclusões sobre o comportamento da função logarítmica  $x \mapsto \log_a x$  quando  $x$  se aproxima de zero (por valores positivos) ou quando  $x$  fica arbitrariamente grande são as seguintes: dado  $M > 0$ , existe  $x > 0$  suficientemente pequeno, tal que  $\log_a x > M$ ; dado  $N < 0$ , existe  $x$  suficientemente grande tal que  $\log_a x < N$ . Para compreender o significado dessas afirmações, basta usar que  $a^{-1} > 1$  e que (conforme observamos acima) os gráficos de  $L_a$  e  $L_{a^{-1}}$  são simétricos em relação ao eixo  $y$ .

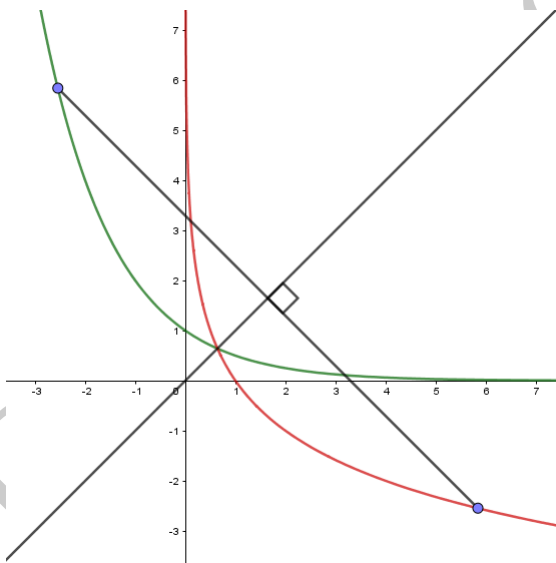


Figura 3: os gráficos da função exponencial  $x \mapsto a^x$  (verde) e de sua inversa  $x \mapsto \log_a x$  (vermelho), no caso em que  $0 < a < 1$ .

## Dicas para o Professor

A presente aula pode ser coberta em dois encontros de 50 minutos.

Nesta segunda parte, apresentamos a função logarítmica e vemos que, de acordo com a definição de logaritmo vista na parte 1, funções logarítmicas são inversas de funções exponenciais.

Na parte 3, veremos que é possível definir primeiramente as funções logarítmicas e, depois, as funções exponenciais como suas inversas.

O estudo do gráfico da inversa de uma função bijetiva dada pode servir como motivador para o estudo de transformações no plano, em particular, para o estudo das reflexões em torno de retas que passam pela origem. A reflexão em torno da reta  $y = x$  é uma função  $F_1 : \mathbb{R}^2 \rightarrow \mathbb{R}^2$ , dada por  $F_1(x, y) = (y, x)$ . Isso significa que os pontos  $(x, y)$  e  $F_1(x, y) = (y, x)$  são simétricos em relação à reta  $y = x$ .

A função  $F_m : \mathbb{R}^2 \rightarrow \mathbb{R}^2$ , que associa a cada ponto  $(x, y)$  do plano o seu simétrico  $F_m(x, y)$  em relação à reta  $y = mx$ , que passa pela origem e tem coeficiente angular  $m$ , é dada por

$$F_m(x, y) = \left( \frac{(1 - m^2)x + 2my}{1 + m^2}, \frac{2mx - (1 - m^2)y}{1 + m^2} \right).$$

Convidamos você e seus estudantes a testar essa fórmula para alguns valores de  $m$  e a tentar entender porque ela é válida.

## Sugestões de Leitura Complementar

1. A. Caminha. *Tópicos de Matemática Elementar*, vol. 3, segunda edição. SBM, Rio de Janeiro, 2013.
2. G. Iezzi, O. Dolce, C. Murakami. *Fundamentos de Matemática Elementar*, vol. 2, quarta edição. São Paulo, Ed. Atual, 1985.
3. E. L. Lima. *Logaritmos*. SBM, Rio de Janeiro, 1991.