

Módulo de Elementos básicos de geometria plana

Triângulos

Oitavo Ano



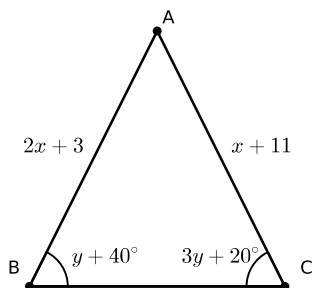
Triângulos

1 Exercícios Introdutórios

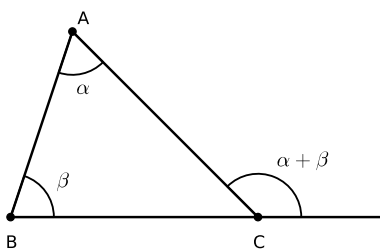
Exercício 1. Classifique cada sentença como verdadeira (V) ou falsa (F):

- Todo triângulo retângulo é isósceles.
- Os três ângulos de um triângulo equilátero são congruentes.
- Um triângulo é isósceles se possui os três lados congruentes.
- Não existe triângulo que seja simultaneamente retângulo e equilátero.
- Não existe triângulo que seja simultaneamente retângulo e isósceles.

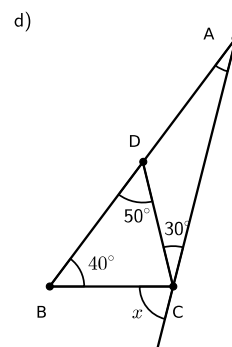
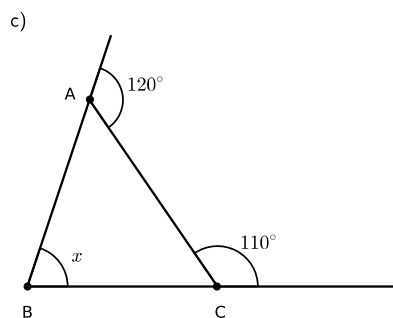
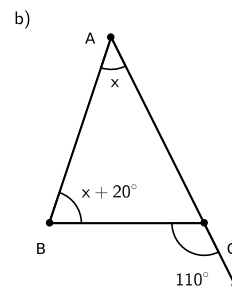
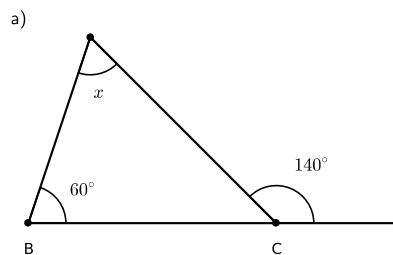
Exercício 2. No desenho abaixo, o triângulo $\triangle ABC$ é isósceles com base BC . Determine os valores de x e y .



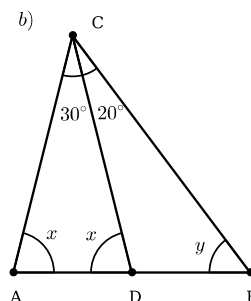
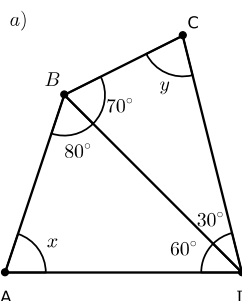
Exercício 3. O teorema do ângulo externo afirma que a medida de um ângulo externo de triângulo é a soma das medidas dos outros dois ângulos internos não adjacentes a ele. Podemos verificar tal afirmação lembrando que a soma dos ângulos de um triângulo sempre é 180° . Assim, no desenho abaixo, o ângulo $\angle BCA$ mede $180^\circ - \alpha - \beta$ e o ângulo externo correspondente é o seu suplementar, ou seja, vale $\alpha + \beta$.



Em cada um dos itens abaixo, determine o valor do ângulo x .



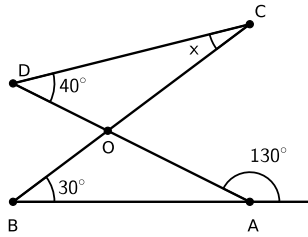
Exercício 4. Determine os valores de x e y nos itens abaixo:



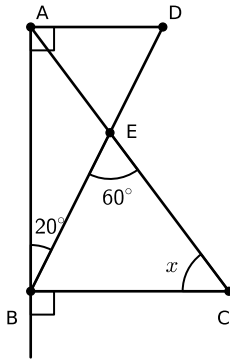
Exercício 5. Dizemos que um triângulo é acutângulo quando todos os seus ângulos são menores que um ângulo reto. Dizemos que um triângulo é retângulo quando um de seus ângulos for igual a um ângulo reto. Por fim, dizemos que um triângulo é obtusângulo quando um dos seus ângulos for maior que um ângulo reto. Sabendo que a soma dos ângulos de um triângulo é sempre 180° , determine em cada um dos itens abaixo se o triângulo é acutângulo, obtusângulo ou retângulo conhecendo apenas dois de seus ângulos.

- $\angle ABC = 70^\circ$ e $\angle BCA = 10^\circ$.
- $\angle ABC = 80^\circ$ e $\angle BCA = 15^\circ$.
- $\angle ABC = 30^\circ$ e $\angle BCA = 60^\circ$.
- $\angle ABC = 60^\circ$ e $\angle BCA = 60^\circ$.

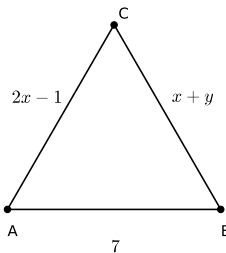
Exercício 6. Determine o valor de x no desenho abaixo.



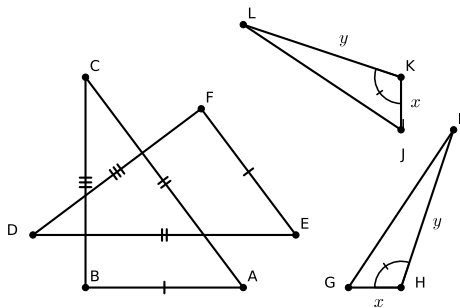
Exercício 7. Determine o valor de x no desenho abaixo.



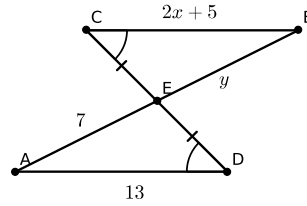
Exercício 8. Na figura abaixo, o triângulo $\triangle ABC$ é equilátero. Determine os valores de x e y .



Exercício 9. No desenho abaixo, existem dois pares de triângulos congruentes. A partir do desenho, determine que pares são esses e justifique em quais casos de congruências eles se enquadram.



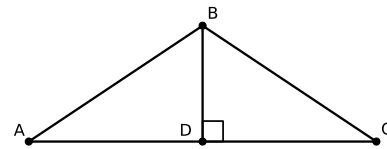
Exercício 10. No desenho abaixo, os triângulos $\triangle AED$ e $\triangle CEB$ são congruentes com $CE = ED$ e $\angle ECB = \angle EDA$. Determine os valores de x e y .



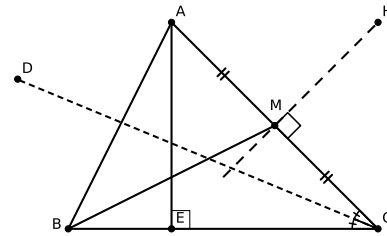
Exercício 11. Diga o nome de cada um dos seguintes pontos notáveis de um triângulo:

- Ponto de encontro das bissetrizes.
- Ponto de encontro das retas suportes das alturas.
- Ponto de encontro das medianas.
- Ponto de encontro das mediatrizes dos lados.

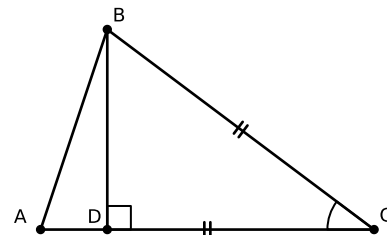
Exercício 12. No desenho abaixo, O triângulo $\triangle ABD$ é congruente ao triângulo $\triangle BDC$ com $AD = DC$. Se $AC = x + y$, $DC = 4x$, $AB = 5x$ e $BC = 3x + 2$, determine os valores de x e y .



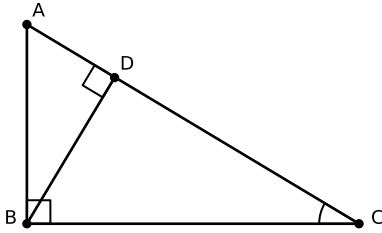
Exercício 13. Determine no desenho abaixo os seguintes objetos geométricos: uma mediana, uma altura, uma bissetriz e uma mediatriz.



Exercício 14. No desenho abaixo, BD é uma altura relativa ao lado AC e $BC = AC$. Se $\angle ACB = 40^\circ$, determine o valor do ângulo $\angle ABD$.

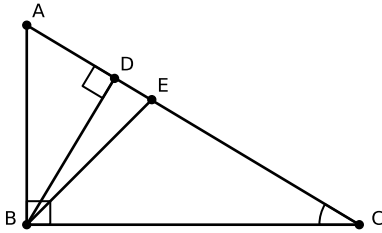


Exercício 15. No desenho abaixo, sabendo que $\angle BCA = 30^\circ$, encontre o valor de $\angle ABD$.

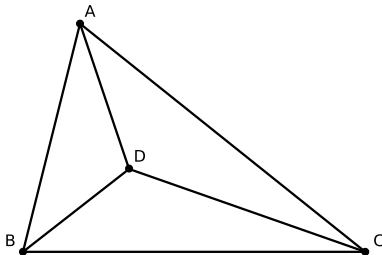


2 Exercícios de Fixação

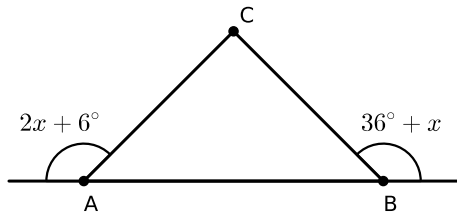
Exercício 16. No desenho abaixo, BE é bissetriz de $\angle ABC$. Se $\angle ACB = 30^\circ$, determine o ângulo $\angle DBE$.



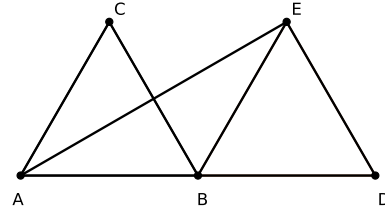
Exercício 17. No desenho abaixo, o ponto D é o incentro do triângulo $\triangle ABC$. Sabendo que $\angle ADB = 110^\circ$, $\angle ADC = 130^\circ$ e $\angle BDC = 120^\circ$, determine os ângulos do triângulo.



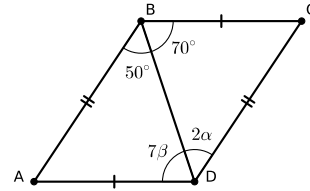
Exercício 18. O triângulo abaixo é isósceles de base AB . Determine o valor do ângulo x .



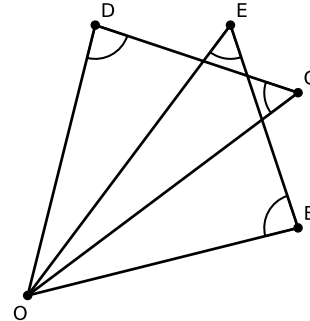
Exercício 19. No desenho abaixo, os triângulos $\triangle ABC$ e $\triangle BED$ são equiláteros de mesmo lado. Determine o ângulo $\angle AEB$.



Exercício 20. No desenho abaixo, os triângulos $\triangle ABD$ e $\triangle BDC$ são congruentes. Determine as medidas de α e β .

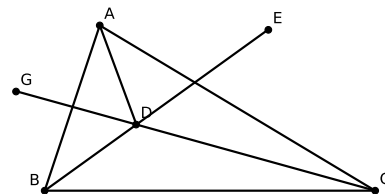


Exercício 21. Na figura abaixo, $\angle ODC = \angle OBE$ e $\angle OEB = \angle DCO$. Se $DC = EB$, $\angle DOB = 60^\circ$ e $OB = 5\text{cm}$, determine o comprimento de BD .

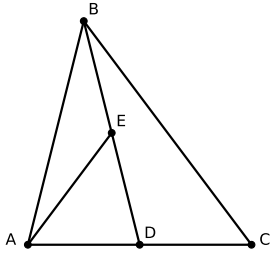


Exercício 22. No desenho abaixo, GC e BE são as bissetrizes dos ângulos $\angle ACB$ e $\angle ABC$, respectivamente. Se $\angle BAC = 60^\circ$ e $\angle ABC = 80^\circ$, determine:

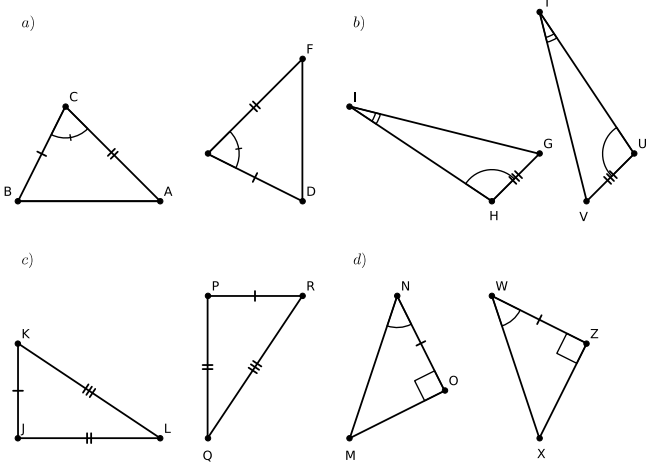
- o ângulo $\angle ACB$;
- os ângulos $\angle DCB$ e $\angle DBC$;
- o ângulo $\angle BDC$.



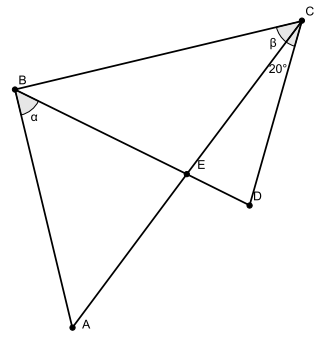
Exercício 23. No desenho abaixo, BD é uma mediana do triângulo $\triangle ABC$ e AE uma mediana do triângulo $\triangle BAD$. Além disso, $AD = DE$. Se $DC = 8\text{cm}$, determine a medida do segmento BE .



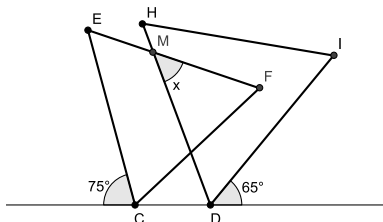
Exercício 24. Indique para cada par de triângulos dos itens abaixo qual caso de congruência pode ser aplicado.



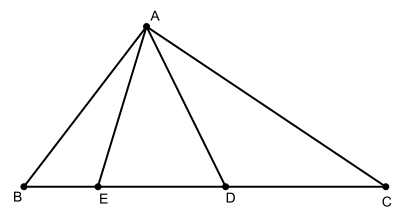
Exercício 25. Na figura, temos $AE = BE = CE = CD$. Além disso, α e β são medidas de ângulos. Determine o valor da razão $\frac{\alpha}{\beta}$.



Exercício 26. Na figura, os dois triângulos são equiláteros e os ângulos dados em graus. Determine o valor de x .

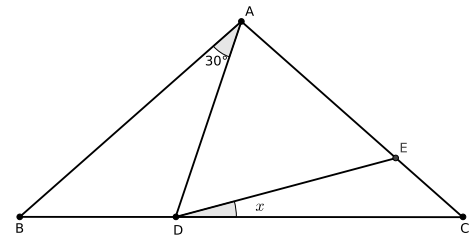


Exercício 27. No triângulo ABC , os pontos D e E pertencem ao lado BC e são tais que $BD = BA$ e $CE = CA$. Dado que $\angle DAE = 40^\circ$, determine a medida do ângulo $\angle BAC$.



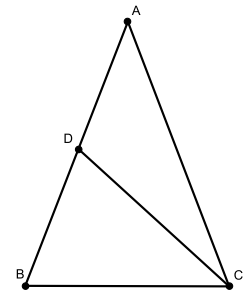
Exercício 28. Em um triângulo ABC , $\angle BAC = 20^\circ$ e $\angle ABC = 110^\circ$. Se I é o incentro (centro da circunferência inscrita) e O o circuncentro (centro da circunferência circunscrita) do triângulo $\triangle ABC$, determine a medida do ângulo $\angle IAO$.

Exercício 29. Na figura, $AB = AC$, $AE = AD$ e o ângulo $\angle BAD$ mede 30° . Determine a medida do ângulo x .

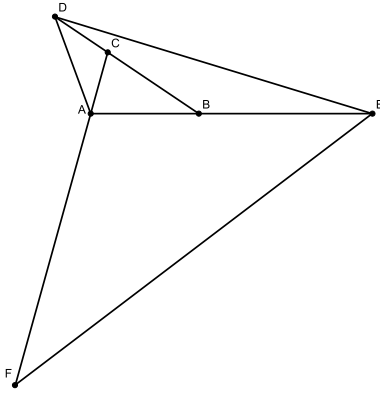


3 Exercícios de Aprofundamento e de Exames

Exercício 30. Na figura, o triângulo $\triangle ABC$ é isósceles de base BC e o ângulo $\angle BAC$ mede 30° . O triângulo $\triangle BCD$ é isósceles de base BD . Determine a medida do ângulo $\angle DCA$.



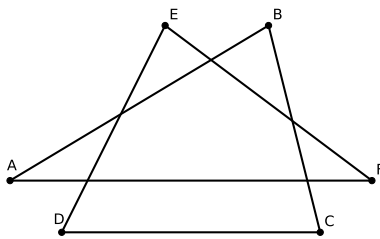
Exercício 31. Na figura abaixo, o ângulo $\angle ADC$ mede 48° e os triângulos $\triangle ACD$, $\triangle DBE$ e $\triangle EAF$ são isósceles de bases AD , DE e EF , respectivamente. Determine a medida do ângulo $\angle DEF$.



Exercício 32. Em um triângulo $\triangle ABC$, com $\angle ABC - \angle BAC = 50^\circ$, a bissetriz do ângulo $\angle ACB$ intersecta o lado AB em D . Seja E o ponto do lado AC tal que $\angle CDE = 90^\circ$. Determine a medida do ângulo $\angle ADE$.

Exercício 33. Os pontos M e N são escolhidos na hipotenusa AB do triângulo retângulo $\triangle ABC$ de modo que $BC = BM$ e $AC = AN$. Prove que o ângulo $\angle MCN$ mede 45° .

Exercício 34. Se a soma das medidas em graus dos ângulos A, B, C, D, E e F da figura abaixo é $90n$, qual o valor de n ?



Exercício 35. A altura CH e a mediana BK são desenhadas em um triângulo acutângulo $\triangle ABC$. Sabemos que $BK = CH$ e que $\angle KBC = \angle HCB$. Prove que o triângulo $\triangle ABC$ é equilátero.

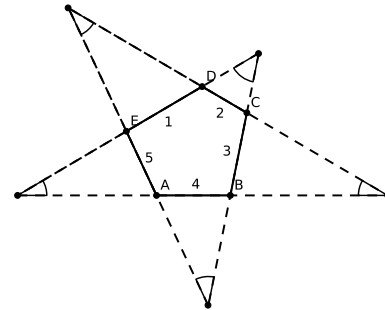
Exercício 36. Demonstre que a soma dos ângulos internos de um triângulo é 180° .

Exercício 37. A mediana BM , a altura AH e a bissetriz CK de um triângulo $\triangle ABC$ são desenhadas. Sabemos que AH intersecta BM em L , AH intersecta CK em N e BM intersecta CK em P . Os pontos L, N e P são distintos. Prove que o triângulo LNP não pode ser equilátero.

Exercício 38. No triângulo $\triangle ABC$ com $\angle BAC = 30^\circ$, BB_1 e CC_1 são alturas. Sejam B_2 e C_2 os pontos médios de AC e AB , respectivamente. Prove que os segmentos B_1C_2 e B_2C_1 são perpendiculares.

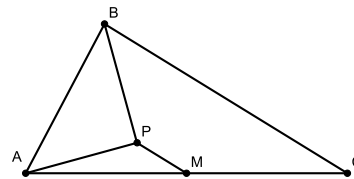
Exercício 39. Uma estrela de “ n pontas” é formada como segue. Começamos numerando os lados de um polígono

convexo de n lados com $1, 2, \dots, n$ de forma consecutiva. As pontas das estrelas são formadas pelas interseções das retas que passam por lados que diferem por duas unidades. Nessa ordem, estamos considerando que os lados n e $n - 1$ vão formar pontas com os lados 2 e 1, respectivamente. A figura abaixo mostra um exemplo com $n = 5$. Determine o valor da soma dos ângulos interiores das n pontas da estrela.



Exercício 40. Pinóquio afirma que é possível formar um retângulo usando alguns triângulos, sem sobreposição, todos com os mesmos ângulos e nenhum dos quais possuindo um ângulo reto. Isso é realmente possível ou Pinóquio está mentindo?

Exercício 41. No triângulo $\triangle ABC$ abaixo, BP é bissetriz do ângulo B , M é o ponto médio do lado AC e AP é perpendicular a BP . Se $AB = 6$ e $BC = 10$, determine PM .



Exercício 42. Em um triângulo $\triangle ABC$, $AB = AC$ e $\angle BAC = 30^\circ$, marca-se um ponto Q sobre o lado AB e um ponto P na mediana AD , de modo que $PC = PQ$ ($Q \neq B$). Determine $\angle PQC$.

Respostas e Soluções

1 Exercícios Introdutórios

1. a)F b)V c)F d)V e)F
2. Como $2x + 3 = x + 11$, temos $x = 8$. Além disso, $y + 40^\circ = 3y + 20^\circ$ implica que $y = 10^\circ$.
3. a) $x = 80^\circ$. b) $x = 45^\circ$. c) $x = 50^\circ$. d) $x = 60^\circ$.
4.
 - a) Como $y + 70^\circ + 30^\circ = 180^\circ$, temos $y = 80^\circ$. Além disso, $x + 80^\circ + 60^\circ = 180^\circ$ implica que $x = 40^\circ$.
 - b) Como $x + x + 30^\circ = 180^\circ$, temos $x = 75^\circ$. Além disso, pelo teorema do ângulo externo, $x = 75^\circ = 20^\circ + y$. Daí, $y = 55^\circ$.
5.
 - a) obtusângulo, pois $\angle BAC = 100^\circ$.
 - b) acutângulo, pois $\angle BAC = 85^\circ$.
 - c) retângulo, pois $\angle BAC = 90^\circ$.
 - d) acutângulo (e também equilátero), pois $\angle BAC = 60^\circ$.
6. Pelo teorema do ângulo externo, $\angle BOA = 130^\circ - 30^\circ = 100^\circ$. Além disso, $\angle COD = \angle BOA = 100^\circ$, pois são ângulos opostos pelo vértice. Assim, $x + 100^\circ + 40^\circ = 180^\circ$, ou seja, $x = 40^\circ$.
7. Analisando a soma dos ângulos do triângulo $\triangle ABD$, temos $\angle ADB + 20^\circ + 90^\circ = 180^\circ$, ou seja, $\angle ADB = 70^\circ$. Como AD é paralelo a BC , segue que $\angle EBC = 70^\circ$. Finalmente, analisando a soma dos ângulos do triângulo $\triangle BEC$, temos $70^\circ + 60^\circ + x = 180^\circ$. Assim, $x = 50^\circ$.
8. Temos:
 - i) $2x - 1 = 7$, então $x = 4$.
 - ii) $x + y = 7$, então $y = 3$.
9.
 - i) Os triângulos $\triangle ABC$ e $\triangle EFD$, pelo caso LLL;
 - ii) Os triângulos $\triangle GHI$ e $\triangle JKL$, pelo caso LAL.
10. Como os triângulos $\triangle AED$ e $\triangle CEB$ são congruentes com $CE = ED$ e $\angle ECB = \angle EDA$, então $EB = AE$ e $CB = AD$, ou seja, $y = 7$ e $2x + 5 = 13$. A última igualdade produz $x = 4$.
11. Temos: a) Incentro; b) Ortocentro; c) Baricentro e d) Circuncentro.

12. Como $AB = BC$, temos $5x = 3x + 2$, ou seja, $x = 1$. De $AC = 2AD$, segue que $x + y = 8x$ e consequentemente $y = 7$.

13. Temos: BM é mediana, AE é altura, CD é bissetriz e HM é mediatriz.

14. Se $\angle ACB = 40^\circ$ e $AC = BC$, então $\angle CAB = \angle CBA = 70^\circ$. Assim, $\angle ABD = 180^\circ - 70^\circ - 90^\circ = 20^\circ$.

15. Se $\angle BCA = 30^\circ$, então $\angle BAC = 180^\circ - 90^\circ - 30^\circ = 60^\circ$. Assim, $\angle ABD = 180^\circ - 90^\circ - 60^\circ = 30^\circ$.

2 Exercícios de Fixação

16. Como $\angle ACB = 30^\circ$, então $\angle CAB = 60^\circ$ e, por consequência, $\angle ABD = 30^\circ$. Assim, $\angle DBE = 45^\circ - \angle ABD = 15^\circ$.

17. Dividindo os ângulos internos do triângulo em dois ângulos congruentes a α no vértice A , dois congruentes a β no vértice B e dois congruentes a γ no vértice C , tem-se $\alpha + \beta = 70^\circ$, $\alpha + \gamma = 50^\circ$, e $\beta + \gamma = 60^\circ$. Daí, resolvendo o sistema formado por essas equações, $\alpha = 30^\circ$, $\beta = 40^\circ$ e $\gamma = 20^\circ$. Assim, temos $\angle BAC = 60^\circ$, $\angle CBA = 80^\circ$ e $\angle ACB = 40^\circ$.

18. Como $2x + 6^\circ = 36^\circ + x$, temos $x = 30^\circ$.

19. O triângulo $\triangle ABE$ é isósceles pois $AB = BE$. Seja α o seu ângulo da base. Pelo teorema do ângulo externo aplicado ao triângulo $\triangle ABE$ com respeito ao ângulo externo $\angle EBD$, temos $\alpha + \alpha = \angle EBD = 60^\circ$. Portanto, $\alpha = 30^\circ$.

20. Temos $7\beta = 70^\circ$ e $2\alpha = 50^\circ$, ou seja, $\beta = 10^\circ$ e $\alpha = 25^\circ$.

21. Pelo caso ALA, $\triangle ODC \cong \triangle OBE$ e daí $OD = OB = 5\text{cm}$. Como o triângulo $\triangle DOB$ é isósceles com ângulo do vértice medindo 60° , temos $\angle ODB = \angle DBO = 60^\circ$ e consequentemente $\triangle ODB$ é equilátero. Assim, $DB = OB = 5\text{cm}$.

22. a) $\angle ACB = 180^\circ - 60^\circ - 80^\circ = 40^\circ$;

b) Como BE e GD são bissetrizes, $\angle DCB = 20^\circ$ e $\angle DBC = 40^\circ$;

c) Analisando a soma dos ângulos do triângulo $\triangle DBC$, temos $\angle BDC = 180^\circ - 40^\circ - 20^\circ = 120^\circ$.

23. Como BD e AE são medianas e $AD = DE$, tem-se $BE = ED = AD = DC = 8\text{cm}$.

24. a) LAL;

b) LAA_o;

c) LLL;

d) ALA.

25. Como $\triangle CDE$ é isósceles, $\angle DEC = 80^\circ = \angle AEB$, pois são ângulos da base. Assim, como $\triangle ABE$ é isósceles, $\alpha = 50^\circ$. De forma análoga, $\beta = 40^\circ$. Portanto, $\frac{\alpha}{\beta} = \frac{5}{4}$.

26. Como $\triangle CEF$ é equilátero, $\angle FCD = 180^\circ = 75^\circ - 60^\circ = 45^\circ$. De forma análoga, $\angle MDC = 55^\circ$. Assim, o ângulo determinado pela intersecção das retas MD e CF é 80° . Portanto, $x = 180^\circ - 60^\circ - 80^\circ = 40^\circ$.

27. (Extraído da OBM 2011) Como $\triangle BAD$ e $\triangle AEC$ são isósceles, segue que $\angle BAD = \angle BDA$ e $\angle CAE = \angle CEA$. Tem-se ainda que $\angle BAC = \angle BAD + \angle CAE - 40^\circ = \angle BDA + \angle CEA - 40^\circ = (180^\circ - 40^\circ) - 40^\circ = 100^\circ$.

28. (Extraído da OBM 2008) Como $\angle ABC = 110^\circ$, então $\angle AOC = 140^\circ$ e com isso $\angle OAC = 20^\circ$. Por outro lado, $\angle IAC = 10^\circ$. Portanto, $\angle IAO = 30^\circ$.

29. (Extraído da OBM 2006) Pelo teorema do ângulo externo, $\angle ADE + x = 30^\circ + \angle ABD$, portanto $\angle ADE = \angle AED = 30^\circ + \angle ABD - x$. Além disso, $\angle AED = x + \angle ACD$. Igualando as duas equações e usando que $\angle ABC = \angle ACB$, temos $30^\circ + \angle ABD - x = x + \angle ACD$, ou seja, $x = 15^\circ$.

3 Exercícios de Aprofundamento e de Exames

30. (Extraído da OBMEP - 2005) Como $\triangle ABC$ é isósceles, temos $\angle ABC = \angle ACB = \alpha$. Como $\triangle BCD$ é isósceles, também temos $\angle BDC = \angle DBC = \alpha$. Se $\angle DCA = \beta$, tem-se, pelo teorema do ângulo externo, que $\alpha = 30^\circ + \beta$. Analisando a soma dos ângulos do $\triangle BCD$, $\alpha + \alpha + \alpha - \beta = 180^\circ$. Assim, pelas duas equações tem-se $2\beta + 90^\circ = 180^\circ$, ou seja, $\beta = 45^\circ$.

31. (Extraído da OBMEP 2008) Pelo teorema do ângulo externo e usando que o triângulo $\triangle CAD$ é isósceles, $\angle ACB = \angle CAD + \angle CDA = 2 \cdot \angle CDA = 96^\circ$. Do mesmo modo obtém-se $\angle CBA = 2 \cdot \angle DEA$ e $\angle BAC = 2 \cdot \angle FEA$. Somando as três igualdades,

$$\begin{aligned} 180^\circ &= \angle ABC + \angle BCA + \angle CAB \\ &= 96^\circ + 2 \cdot \angle DEA + 2 \cdot \angle FEA \\ &= 96^\circ + 2\angle DEF. \end{aligned}$$

Ou seja, $\angle DEF = 42^\circ$.

32. (Extraído da OBM - 2011) Sejam $\angle BAC = \alpha$ e $\angle BCA = 2\beta$, tem-se $\angle ABC = \alpha + 50^\circ$. Pelo teorema do ângulo externo no triângulo $\triangle DEC$, $\angle AED = 90^\circ + \beta$. Analisando a soma dos ângulos dos triângulos $\triangle ABC$, temos $\alpha + (\alpha + 50^\circ) + 2\beta = 180^\circ$, ou seja, $\alpha + \beta = 65^\circ$. Finalmente, analisando a soma dos ângulos do triângulo $\triangle EAD$, temos $x + \alpha + (90 + \beta) = 180^\circ$ e conseqüentemente $x = 90^\circ - (\alpha + \beta) = 25^\circ$.

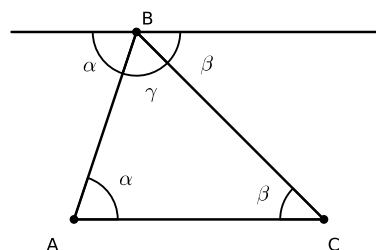
33. (Extraído do Torneio das Cidades) Seja $\angle CAB = 2\alpha$. Assim, $\angle CBA = 90^\circ - 2\alpha$. Os ângulos da base dos triângulos isósceles $\triangle ACN$ e $\triangle CMB$ valem $90^\circ - \alpha$ e $45^\circ + \alpha$, respectivamente. Assim, $\angle MCN = 180^\circ - \angle CMN - \angle CNM = \alpha + (45^\circ - \alpha) = 45^\circ$.

34. (Extraído da AIME) Chamando a intersecção entre AF e ED de G e a intersecção de AF e BC de H , temos pelo teorema do ângulo externo que $\angle DGH = E + F$ e $\angle CHG = A + B$. Analisando a soma dos ângulos do quadrilátero $DCHG$, temos $A + B + C + D + E + F = 360$, ou seja, $n = 4$.

35. (Extraído da Olimpíada de Leningrado) As igualdades fornecidas implicam que os triângulos $\triangle BKC$ e $\triangle CHB$ são congruentes pelo caso LAL. Assim, temos $CK = HB$ e $BK \perp KC$. Conseqüentemente BK é uma altura e $\triangle ABC$ é isósceles com $AB = BC$. Além disso, $\angle HBC = \angle KCB$ implicando que $AB = AC$. Como os três lados são iguais a AB , o triângulo é equilátero.

36. Pelo vértice B , trace uma reta paralela ao lado AC . Tal reta forma dois pares de ângulos alternos internos de valores α e β . Como a soma dos três ângulos incidentes no vértice B é um ângulo raso, temos:

$$\angle BAC + \angle ACB + \angle CBA = \alpha + \beta + \gamma = 180^\circ.$$



37. Suponha, por absurdo, que o triângulo $\triangle LNP$ é equilátero. Teremos:

$$\frac{\angle BCA}{2} = 90^\circ - \angle HNC = 30^\circ.$$

Além disso,

$$\angle BMC = \angle LPN - \frac{\angle BCA}{2} = 90^\circ.$$

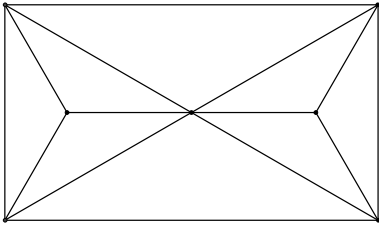
Como BM é altura e mediana, concluímos que $\triangle ABC$ é isósceles. Sendo $\angle BCA = 60^\circ$, podemos concluir que

$\triangle ABC$ é de fato equilátero. Nesse caso, BM , CK e AH seriam concorrentes em um mesmo ponto e isso produziria um absurdo pois estamos supondo que L , M e P são distintos.

38. Como B_1C_2 é mediana do triângulo retângulo $\triangle BB_1A$, então $B_1C_2 \equiv C_2A$ e, por consequência, $\angle AB_1C_2 = \angle B_1AC_2 = 30^\circ$ e $\angle B_1C_2A = 120^\circ$. De forma análoga, tem-se $\angle AB_2C_1 = 120^\circ$ e $\angle B_2C_1B = 120^\circ$. Seja P a intersecção entre C_1B_2 e B_1C_2 . Analisando a soma dos ângulos do quadrilátero AB_2PC_2 , temos $\angle C_2PB_2 = 360^\circ - 30^\circ - 120^\circ - 120^\circ = 90^\circ$, ou seja, B_1C_2 é perpendicular a C_1B_2 .

39. (Extraído da AIME) Sejam S a soma dos ângulos nas n "pontas" e R a soma dos outros $2n$ ângulos internos dos triângulos que contêm estas "pontas". O polígono desenhado tem soma dos ângulos externos dado por 360° . Como os ângulos que compõem R são os ângulos externos do polígono contados exatamente duas vezes, temos $R = 2 \cdot 360^\circ$. A soma dos ângulos internos dos n triângulos que contém as pontas vale $180^\circ n$. Assim, $180^\circ n = S + R = S + 720^\circ$ implica que $R = 180^\circ(n - 4)$.

40. (Extraído do Torneio das Cidades) Dessa vez Pinóquio não está mentindo. Abaixo é exibido um exemplo com 8 triângulos possuindo os ângulos 30° e 120° .



41. Seja Z o ponto de intersecção do prolongamento de AP e BC . O triângulo $\triangle ABZ$ é isósceles, pois o segmento AP é altura e bissetriz. Logo, $BZ = AB = 6$ e consequentemente $ZC = BC - BZ = 10 - 6 = 4$. Como o triângulo $\triangle ABZ$ é isósceles, BP é altura, bissetriz e mediana. Logo P é o ponto médio de AZ . Como M já é o ponto médio de AC , PM é a base média no triângulo $\triangle AZC$, ou seja, $PM = 2$.

42. Como $\triangle ABC$ é isósceles e $\angle BAC = 30^\circ$, $\angle ABC = \angle ACB = 75^\circ$. Sejam $\angle PBQ = \beta$, $\angle PBC = \theta$ e E a intersecção de BP com QC . Como PD é mediana e altura do $\triangle BPC$, temos $PC = PB$. Assim, os triângulos $\triangle PQB$ e $\triangle PBC$ são isósceles com ângulos das bases β e θ . Pelo teorema do ângulo externo, segue que $\angle EPQ = 2\beta$ e $\angle EPC = 2\theta$. Assim, $\angle QPC = 2\beta + 2\theta = 2\angle QBC = 150^\circ$. Finalmente, como $\triangle QPC$ também é isósceles de base PQ , segue que $\angle PQC = 15^\circ$.