

Módulo de Funções - Noções Básicas

Funções - Noções Básicas.

9º ano E.F.



1 Exercícios Introdutórios

Exercício 1. Em um certo dia, três mães deram à luz em uma maternidade. Uma delas teve trigêmeos, outra gêmeos e a terceira, um único filho. Considere o conjunto das mães, o conjunto das crianças e as seguintes relações:

- a) a que associa a cada mãe o seu filho.
- b) a que associa a cada criança a sua mãe.
- c) a que associa a cada criança o seu irmão.

Qual(ais) é(são) função(ões)?

Exercício 2. Uma professora resolve distribuir uma pesquisa, colocando no quadro três paisagens: praia, fazenda e floresta. Em seguida, pediu para que cada um dos 30 alunos escolhesse sua paisagem preferida. Sejam A o conjunto formado pelos alunos e B o conjunto formado pelas três paisagens, determine, em cada situação abaixo, se a relação $f : A \rightarrow B$ é uma função e, caso seja, classifique-a em injetiva, sobrejetiva ou bijetiva.

- a) todos os alunos escolheram praia.
- b) dez alunos escolheram praia, dez alunos escolheram fazenda e dez alunos escolheram floresta.
- c) todos os alunos escolheram sua paisagem preferida, com exceção de Joãozinho que disse não gostar de nenhuma.
- d) todos os alunos escolheram sua paisagem preferida, com exceção de Joãozinho que disse gostar das três de maneira igual.

Exercício 3. Sejam as funções

$$f : \mathbb{R} \rightarrow \mathbb{R} \\ x \mapsto f(x) = 2x.$$

e

$$g : \mathbb{R} \rightarrow \mathbb{R} \\ x \mapsto g(x) = x + 5.$$

É fácil perceber que ambas são bijetivas. Determine:

- | | | |
|---------------------|---------------------|--------------------------|
| a) $f(4)$. | e) $g \circ f(2)$. | i) $f \circ g(x)$. |
| b) $f(-2)$. | f) $f \circ f(3)$. | j) $g \circ f(x)$. |
| c) $f^{-1}(4)$. | g) $f^{-1}(x)$. | k) $f \circ f(x)$. |
| d) $f \circ g(2)$. | h) $g^{-1}(x)$. | l) $f \circ f^{-1}(x)$. |

Exercício 4. Patrícia é nova em sua escola e acabou de conhecer três meninas: Alexandra, cujo signo é Áries; Beatriz, cujo signo é Virgem; e Cíntia, cujo signo é Leão. Considerando o conjunto A formado pelas novas colegas de Patrícia e o conjunto B dos 12 signos do zodíaco, classifique em verdadeiros ou falso:

- a) $A \rightarrow B$ é injetiva.
- b) $A \rightarrow B$ é sobrejetiva.
- c) $A \rightarrow B$ é bijetiva.

Exercício 5. Construa o gráfico das seguintes funções, determine o conjunto imagem e classifique-as em injetiva, sobrejetiva ou bijetiva.

a)

$$f : \{1, 2, 3, 4\} \rightarrow \mathbb{R} \\ x \rightarrow f(x) = 2x.$$

b)

$$f : \{1, 2, 3, 4\} \rightarrow \{2, 4, 6, 8\} \\ x \rightarrow f(x) = 2x.$$

c)

$$f : \mathbb{R} \rightarrow \mathbb{R} \\ x \rightarrow f(x) = 2x.$$

2 Exercícios de Fixação

Exercício 6. Construa o gráfico das seguintes funções e classifique-as em injetiva, sobrejetiva ou bijetiva.

a)

$$f : \{1, 2, 3, 4\} \rightarrow \mathbb{R} \\ x \mapsto f(x) = 3x - 4.$$

b)

$$f : \{1, 2, 3, 4\} \rightarrow \{-1, 2, 5, 8\} \\ x \mapsto f(x) = 3x - 4.$$

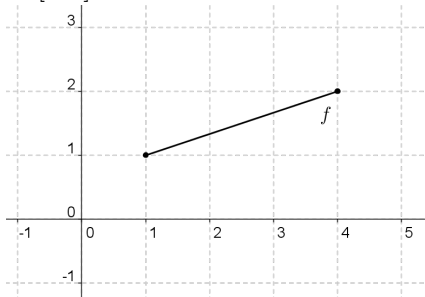
c)

$$f : \mathbb{R} \rightarrow \mathbb{R} \\ x \mapsto f(x) = 3x - 4.$$

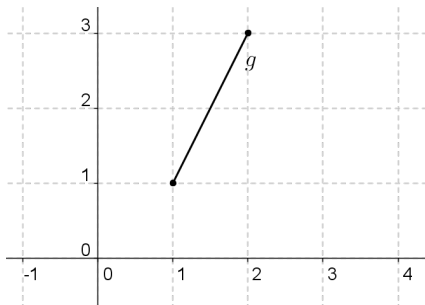
Exercício 7. Em uma biblioteca, todos os livros são catalogados pelo título, além de outros identificadores, e há títulos com mais de um exemplar. A função f cujo domínio é o conjunto de todos os livros catalogados e o contradomínio é o conjunto dos títulos dos livros catalogados dessa biblioteca é injetiva?

Exercício 8. Analise as funções abaixo e classifique-as em injetiva, sobrejetiva e bijetiva.

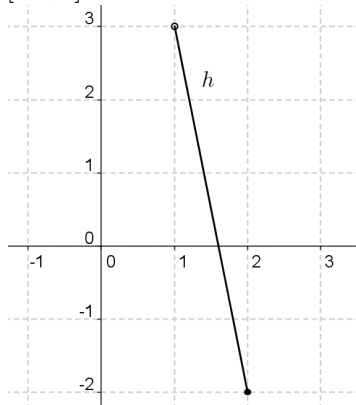
a) $f : [1, 1] \rightarrow [4, 2]$.



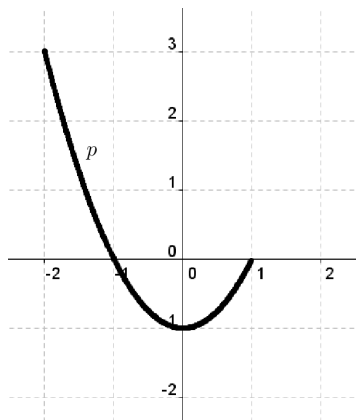
b) $g : [1, 2] \rightarrow \mathbb{R}$.



c) $h : (1, 2] \rightarrow [-2, 3]$.



d) $p : [-2, 1] \rightarrow [-1, 4]$.



Exercício 9. Seja um retângulo cujo comprimento tem o dobro da medida da altura. Se x é a medida da altura, determine

- $P(4)$, sendo P o perímetro deste retângulo.
- $P(x)$.
- $A(2)$, sendo A a área deste retângulo.
- $A(x)$.

Exercício 10. Jovaldo, de posse de uma régua de madeira de 1m de comprimento, começa a dividi-la, seguindo a seguinte regra: no passo 1, ele a divide ao meio; no passo 2, ele divide cada pedaço ao meio; no passo 3, ele divide cada pedaço, obtido no passo anterior, ao meio; e assim sucessivamente. Sendo A o conjunto dos números naturais e B o conjunto dos números reais, determine:

- a função $P(x) : A \rightarrow B$, descrita no processo acima, onde $P(x)$ é o número de pedaços obtidos no passo x .
- o número de pedaços no passo 10.
- o passo realizado quando se obtém 512 pedaços.

Exercício 11. Uma fábrica de canetas tem um custo diário de produção de R\$120,00, mais R\$0,40 por caneta. Cada caneta é vendida por R\$1,20. Determine

- a lei de associação da quantidade x de canetas e do custo diário de produção $C(x)$ dessas x canetas.
- o custo diário de produção de 80 canetas.
- a lei de associação do lucro diário $L(x)$ após a venda de x canetas e essa quantidade de canetas.
- o lucro da empresa com a venda de 200 canetas.

Exercício 12. Suponha que o número de indivíduos de uma determinada população seja dado pela função $f : \mathbb{R}_+ \rightarrow \mathbb{R}_+$, $f(t) = a \cdot 2^{-bt}$, onde a variável t é dada em anos e a e b são constantes. Se a população inicial ($t = 0$) é 1024 e após 10 anos seja a metade da inicial, determine:

- os valores de a e b .
- o tempo mínimo para que a população se reduza a $1/8$ da população inicial.
- se essa função é injetiva, sobrejetiva ou bijetiva.

Exercício 13. Construa o gráfico das seguintes funções e classifique-as em injetiva, sobrejetiva ou bijetiva.

a)

$$f : \{1, 2, 3, 4\} \rightarrow \mathbb{R}$$

$$x \mapsto f(x) = x^2.$$

b)

$$f: \{1, 2, 3, 4\} \rightarrow \{1, 4, 9, 16\}$$
$$x \mapsto f(x) = x^2.$$

c)

$$f: \mathbb{R} \rightarrow \mathbb{R}$$
$$x \mapsto f(x) = x^2.$$

Exercício 14. Quando colocamos gasolina no carro, o preço P que vamos pagar depende da quantidade x de litros. Considerando que o litro da gasolina seja R\$3,60, determine:

- a lei de associação $P(x)$ que relaciona as grandezas P e x .
- o maior conjunto domínio possível para $P(x)$.
- o preço de 70 litros de gasolina.
- a quantidade de gasolina que se pode comprar com R\$100,00.

Exercício 15. Sejam as funções $f: \mathbb{R} \rightarrow \mathbb{R}$ e $g: \mathbb{R} \rightarrow \mathbb{R}$, tais que $g(x) = 3x - 2$ e $f \circ g(x) = 6x + 1$. Determine

- $f(4)$.
- $f(x)$.

Exercício 16. Seja f uma função, de \mathbb{R} em \mathbb{R} , bijetiva tal que $f(x+3) = 2x - 1$. Determine $f^{-1}(x)$.

Exercício 17. Seja f um função, de \mathbb{R} em \mathbb{R} , bijetiva tal que $f(x) = \sqrt[3]{x} + 2$. Determine $f^{-1}(1)$.

3 Exercícios de Aprofundamento e de Exames

Exercício 18. Considere o trinômio de segundo grau $p(x) = x^2 - x + 1$.

- Determine o número de soluções reais distintas da equação $p(x^2) = x^2$.
- Determine o número de soluções reais distintas da equação $p \circ p(x) = p(x)$.

Exercício 19. Uma função real de variável real f é tal que $f(1/2) = \sqrt{a}$, sendo a um número real positivo, e $f(x+1) = x \cdot f(x)$, para todo $x \in \mathbb{R}$. Determine $f(7/2)$.

Exercício 20. Seja a função $f(x) = \frac{x-2}{1+x}$, de A em B , bijetora. Determine sua inversa.

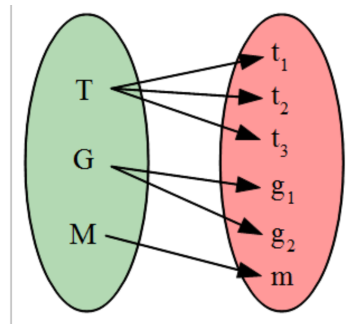
Exercício 21. Seja uma função f , de A e B , sendo A e B conjuntos que possibilitem a composição de f com ela mesma. Se $f(x) = \frac{x+3}{1-x}$, determine $f(f(x))$.

Respostas e Soluções.

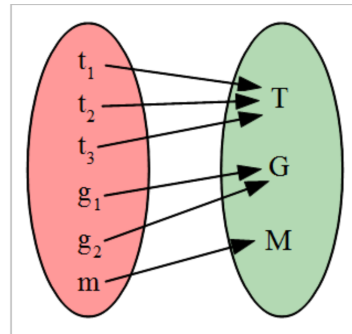
1. (Extraído da Vídeo Aula)

Vamos chamar a mãe dos trigêmeos de T e os trigêmeos de t_1, t_2 e t_3 ; a mãe dos gêmeos de G e os gêmeos de g_1 e g_2 ; e a última mãe de M e seu filho de m . Vamos analisar os diagramas de setas de cada situação, considerando o conjunto domínio aquele que "saem" setas e o conjunto contradomínio aquele que "chegam" setas, e classificá-los em função ou não função.

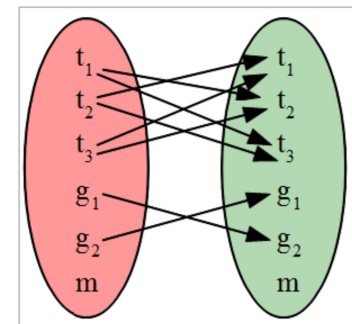
- Não é função pois cada elemento do domínio possui mais de uma imagem.



- É função pois cada elemento do domínio possui exatamente uma imagem.



- Não é função pelo mesmo motivo do item a, além de ter elemento do domínio sem imagem.



2. Inicialmente, como o conjunto B , contradomínio, possui menos elementos que o conjunto A , domínio, caso seja função, f não poderá ser injetiva, pois haverá, logicamente, imagens repetidas. Assim, basta verificar se são sobrejetivas, caso sejam função.

- a) É função pois cada aluno (elemento do domínio) escolheu uma única paisagem (elemento do contradomínio). Como o conjunto imagem, $\{praia\}$, é diferente do conjunto contradomínio, a função não é sobrejetiva.
- b) É função pelo mesmo motivo do item a. Como o conjunto imagem possui os mesmos elementos do conjunto contradomínio, a função é sobrejetiva.
- c) Como Joãozinho não escolheu paisagem, temos elemento do domínio sem imagem, ou seja, não é função.
- d) Como Joãozinho escolheu as três, temos elemento do domínio com mais de uma imagem, ou seja, não é função.

3.

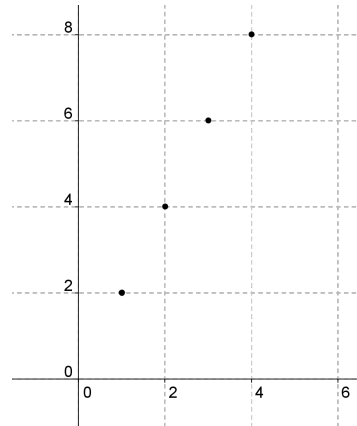
- a) $f(4) = 2 \cdot 4 = 8$.
- b) $f(-2) = 2 \cdot (-2) = -4$.
- c) $f^{-1}(4) = 2$, pois, fazendo $f(x) = 4$, temos $x = 2$.
- d) $f \circ g(2) = 14$, pois $g(2) = 7$, daí $f(g(2)) = f(7) = 14$.
- e) $g \circ f(2) = 9$, pois $f(2) = 4$, então $g(f(2)) = g(4) = 9$.
- f) $f \circ f(3) = 12$, pois $f(3) = 6$, daí $f(f(3)) = f(6) = 12$.
- g) $f^{-1}(x) = \frac{x}{2}$, pois $x = \frac{f(x)}{2}$.
- h) $g^{-1}(x) = x - 5$, pois $x = g(x) - 5$.
- i) $f \circ g(x) = 2g(x) = 2(x + 5) = 2x + 10$.
- j) $g \circ f(x) = f(x) + 5 = 2x + 5$.
- k) $f \circ f(x) = 2f(x) = 2 \cdot 2x = 4x$.
- l) $f \circ f^{-1}(x) = 2 \cdot \frac{x}{2} = x$.

4. (Extraído da Vídeo Aula)

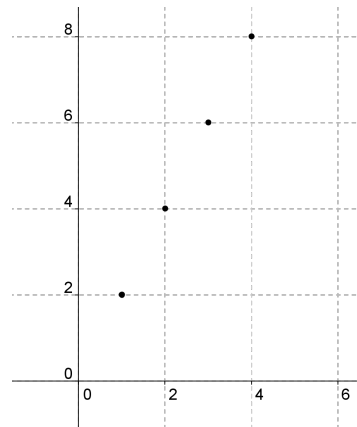
Do enunciado, percebe-se que o contradomínio é um conjunto diferente do conjunto imagem, isso significa que a função não é sobrejetora (logo, não poderá ser bijetora), porém, não existem imagem ligando-se a mais de um elemento do domínio (imagem repetida), isso significa que a função é injetora. Temos então que o único item verdadeiro é o item a.

5.

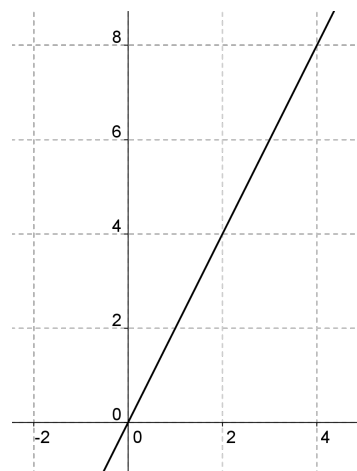
- a) $Im = \{2, 4, 6, 8\}$. Função injetiva, pois $x_1 \neq x_2 \rightarrow f(x_1) \neq f(x_2)$, mas não sobrejetiva pois o contradomínio \mathbb{R} é diferente da $Im = \{2, 4, 6, 8\}$.



- b) $Im = \{2, 4, 6, 8\}$. Função injetiva, pois $x_1 \neq x_2 \rightarrow f(x_1) \neq f(x_2)$. Função sobrejetiva, pois $Im = CD$. Assim, f é bijetiva.

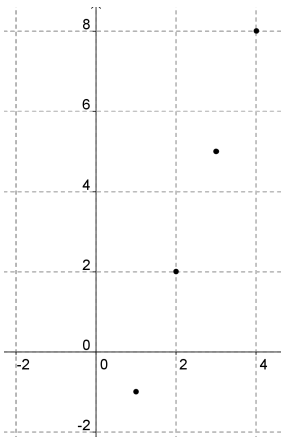


- c) Função injetiva, pois $x_1 \neq x_2 \rightarrow f(x_1) \neq f(x_2)$. Função sobrejetiva, pois $Im = CD$. Assim, f é bijetiva.

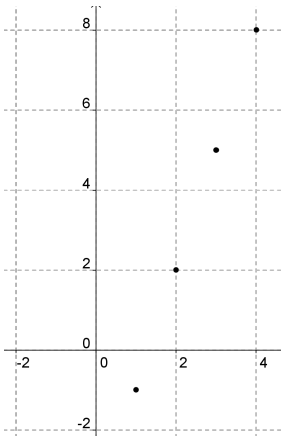


6.

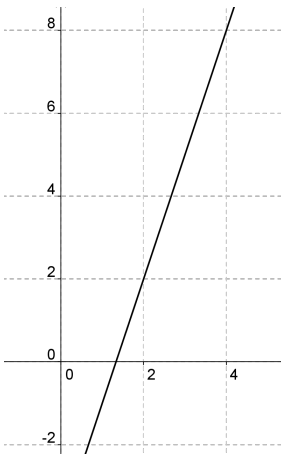
a) Injetiva, pois $x_1 \neq x_2 \rightarrow f(x_1) \neq f(x_2)$.



b) Injetiva, pois $x_1 \neq x_2 \rightarrow f(x_1) \neq f(x_2)$. Sobrejetiva, pois $Im = CD$. Assim, f é bijetiva.



c) Injetiva, pois $x_1 \neq x_2 \rightarrow f(x_1) \neq f(x_2)$. Sobrejetiva, pois $Im = CD$. Assim, f é bijetiva.



7. (Extraído da Vídeo Aula)

Vamos tomar dois exemplares, E_1 e E_2 , pertencentes ao domínio e ambos com mesmo título, T , pertencente ao contradomínio, sendo esse caso existente de acordo com o enunciado. Temos que a imagem de E_1 é T e a imagem de E_2 também é T , ou seja, temos dois elementos do domínio com a mesma imagem, ou seja, a função NÃO é injetiva.

8.

a) Injetiva, pois $x_1 \neq x_2 \rightarrow f(x_1) \neq f(x_2)$. Sobrejetiva, pois $Im = CD$. Assim, f é bijetiva.

b) Injetiva, pois $x_1 \neq x_2 \rightarrow f(x_1) \neq f(x_2)$.

c) Injetiva, pois $x_1 \neq x_2 \rightarrow f(x_1) \neq f(x_2)$.

d) Injetiva, pois $x_1 \neq x_2 \rightarrow f(x_1) \neq f(x_2)$. Sobrejetiva, pois $Im = CD$. Assim, p é bijetiva.

9.

a) $P(4) = 2 \cdot 4 + 2 \cdot 2 \cdot 4 = 24$.

b) $P(x) = 2x + 2 \cdot 2x = 6x$.

c) $A(2) = 2 \cdot 2 \cdot 2 = 8$.

d) $A(x) = x \cdot 2x = 2x^2$.

10.

a) se, em cada passo o número de pedaços dobra e no início existe um pedaço, então $P(x) = 2^x$.

b) $P(10) = 2^{10} = 1024$.

c) $P(x) = 2^x = 512 \Rightarrow 2^x = 2^9 \Rightarrow x = 9$.

11.

a) $C(x) = 120 + 0,40x$.

b) $C(80) = 120 - 0,40 \cdot 80 = 120 - 32 = R\$88,00$.

c) $L(x) = 1,20x - (120 - 0,40x) = 0,80x - 120$.

d) $L(200) = 0,80 \cdot 200 - 120 = 160 - 120 = R\$40,00$.

12.

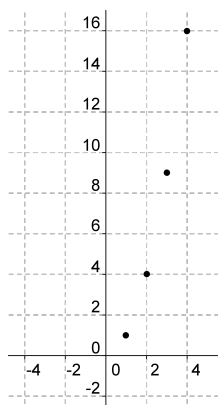
a) $a \cdot 2^{-b \cdot 0} = 1024$, donde temos $a = 1024$. Depois de 10 anos, ficamos com $1024 \cdot 2^{-10b} = 512$, que simplificando, chegamos a $b = 1/10$.

b) $1024 \cdot 2^{-t} = 128$, donde temos $t = 7$ anos.

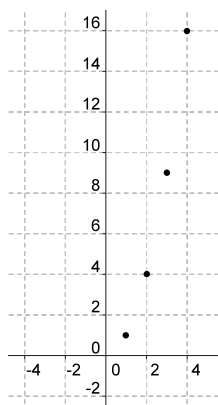
c) Como a população é decrescente, mas nunca negativa, iniciando em 1024, a função não pode ser sobrejetiva, pois $CD \neq Im$. Agora, se tomarmos $f(t_1) = f(t_2)$, temos que $1024 \cdot 2^{-t_1/10} = 1024 \cdot 2^{-t_2/10}$, o que implica em $t_1 = t_2$, ou seja, a função f é injetiva.

13.

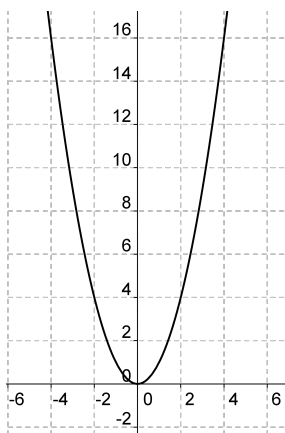
a) Injetiva, pois $x_1 \neq x_2 \rightarrow f(x_1) \neq f(x_2)$.



b) Injetiva, pois $x_1 \neq x_2 \rightarrow f(x_1) \neq f(x_2)$. Sobrejetiva, pois $Im = CD$. Assim, f é bijetiva.



c) Nem sobrejetiva, nem injetiva.



14.

a) $P(x) = 3,60x$.

b) A quantidade de litros pode ser qualquer número real positivo (desde que haja quantidade infinita de gasolina!), portanto $D_f = \mathbb{R}_+$.

c) $P(70) = 3,60 \cdot 70 = R\$252,00$.

d) $3,60x = 100 \Rightarrow x = \frac{100}{3,6} \cong 27,28\ell$.

15. (Extraído da Vídeo Aula)

a) Se queremos $f(4)$, devemos ter $g(x) = 4$, sendo que isso ocorre para $x = 2$. Portanto, temos $f(4) = f(g(2)) = 6 \cdot 2 + 1 = 13$.

b) Se $f(g(x)) = f(3x - 2) = 6x + 1$, então fazendo $x = \frac{k+2}{3}$, temos $f(k) = 6 \cdot \frac{k+2}{3} + 1 = 2k + 5$, ou seja, $f(x) = 2x + 5$.

16. (Extraído da Vídeo Aula)

Substituindo x por $k - 3$, temos $f(k - 3 + 3) = 2(k - 3) - 1$, ou seja, $f(k) = 2k - 7$. Temos então que $f(x) = 2x - 7$. Como queremos a inversa, basta isolar x , ou seja, $x = \frac{f(x) + 7}{2}$. Concluimos que $f^{-1}(x) = \frac{x + 7}{2}$.

17. (Extraído da Vídeo Aula)

A inversa é dada por $f^{-1}(x) = (x - 2)^3$. Assim,

$$f^{-1}(1) = (1 - 2)^3 = -1.$$

18. (Extraído da OBM 2014)

(a)

$$\begin{aligned} p(x^2) &= x^2 \\ (x^2)^2 - (x^2) + 1 &= x^2 \\ (x^2 - 1)^2 &= 0 \\ x^2 - 1 &= 0 \\ x &= \pm 1. \end{aligned}$$

Teremos então que o número de soluções reais distintas é 2.

(b) Seja $p(x) = y$. Queremos determinar as raízes de $p(y) = y$, ou seja, $y^2 - y + 1 = y \Leftrightarrow (y - 1)^2 = 0$. Devemos ter $y = 1$ e conseqüentemente $x^2 - x + 1 = 1$, que implica em raízes 0 e 1, ou seja, duas soluções reais distintas.

19. Inicialmente, fazendo $x = 1/2$, temos

$$f\left(\frac{1}{2} + 1\right) = \frac{1}{2} \cdot f\left(\frac{1}{2}\right) = \frac{\sqrt{a}}{2}.$$

Agora, com $x = 3/2$, ficamos com

$$f\left(\frac{3}{2} + 1\right) = \frac{3}{2} \cdot f\left(\frac{3}{2}\right) = \frac{3\sqrt{a}}{4}.$$

Por fim, seguindo para $x = 5/2$, chegaremos a

$$f\left(\frac{5}{2} + 1\right) = \frac{5}{2} \cdot f\left(\frac{5}{2}\right) = \frac{15\sqrt{a}}{8},$$

ou seja, $f\left(\frac{7}{2}\right) = \frac{15\sqrt{a}}{8}$.

20.

$$\begin{aligned}y &= \frac{x-2}{1+x} \\y + yx &= x-2 \\yx - x &= -y-2 \\x(y-1) &= -y-2 \\x &= \frac{y+2}{1-y}.\end{aligned}$$

Portanto, temos que $f^{-1}(x) = \frac{x+2}{1-x}$.

21.

$$\begin{aligned}f(f(x)) &= \frac{f(x)+3}{1-f(x)} \\&= \frac{x+3}{1-x} \\&= \frac{\frac{x+3}{1-x} + 3}{1 - \frac{x+3}{1-x}} \\&= \frac{-2x+6}{1-x} \\&= \frac{1-x}{-2x-2} \\&= \frac{-2(x-3)}{-2(x+1)} \\&= \frac{(x-3)}{(x+1)}.\end{aligned}$$